

Índice

Apresentação

Ficha 1 A Península Ibérica na Europa e no Mundo	4
Ficha 2 Características naturais da Península Ibérica	6
Ficha 3 Os recursos naturais e a fixação humana	8
Teste de avaliação 1	10
Ficha 4 A conquista romana e a resistência dos povos ibéricos	12
Ficha 5 A Península Ibérica romanizada	14
Teste de avaliação 2	16
Ficha 6 A ocupação muçulmana	18
Ficha 7 A herança muçulmana	20
Ficha 8 Cristãos e Muçulmanos no período da Reconquista	22
Teste de avaliação 3	24
Ficha 9 O Condado Portucalense	26
Ficha 10 O Reino de Portugal	28
Ficha 11 As atividades económicas e a organização social	30
Teste de avaliação 4	32
Ficha 12 O quotidiano	34
Ficha 13 A arte e a cultura (Românico e Gótico)	36
Ficha 14 A crise do século XIV: a morte de D. Fernando e o problema da sucessão	38
Ficha 15 A resistência às invasões castelhanas e a consolidação da independência	40
Teste de avaliação 5	42
Ficha 16 O arranque da expansão marítima	44
Ficha 17 O Império Português no século XVI	46
Ficha 18 Da União Ibérica à Restauração	48
Teste de avaliação 6	50
Teste final	52
Soluções	56

A crise do século XIV: a morte de D. Fernando e o problema da sucessão

O século XIV, em Portugal e no resto da Europa, foi um período de grande instabilidade económica, política e social.

A ocorrência de chuvas abundantes resultou em maus anos agrícolas consecutivos que levaram à falta de produtos agrícolas, provocando a fome.

Muita gente morreu e a conseqüente falta de mão de obra refletiu-se na diminuição da produção agrícola que já era pouca devido às condições climáticas.

Em 1348 chegou a Portugal a Peste Negra. Esta epidemia agravou-se devido à falta de higiene que então existia. Muita gente morreu, complicando-se ainda mais a situação que se vivia.


Para agravar tudo isto, sobretudo na segunda metade do século XIV, Portugal viveu um período de guerras com Castela.

Assinada a paz com Castela, D. Fernando acordou casar a sua única filha, D. Beatriz, com o rei castelhano. Sabendo D. Fernando que à sua morte a herdeira do trono era sua filha, e estando ela casada com o rei de Castela, celebrou o Tratado de Salvaterra de Magos, procurando garantir a independência de Portugal.

A 22 de outubro de 1383, D. Fernando morreu. De imediato se levantou o problema da sucessão.

Depois de D. Fernando ter morrido, D. Leonor assumiu a regência do reino. Por influência do conde Andeiro, conselheiro galego da rainha, e devido à pressão do rei de Castela, D. Leonor fez aclamar sua filha rainha de Portugal. A ela juntou-se parte da nobreza e do clero.

O povo, receando a perda da independência, revoltou-se contra a aclamação de D. Beatriz, apoiado pela burguesia e alguns membros da nobreza.



CS&S H&S © Porto Editora

1. Analisa a cronologia.

a)	1315-1319	Fome devido à destruição das sementeiras provocada pelas chuvas abundantes.
b)	1348	Peste Negra.
c)	1369-1371	1.ª Guerra Fernandina contra Castela.
d)	1371-1372	Crise de cereais provocada pelas guerras e inundações.
e)	1372	2.ª Guerra Fernandina contra Castela.
		Henrique II de Castela cerca Lisboa como represália contra D. Fernando, que tinha invadido a Galiza.
f)	1381-1382	3.ª Guerra Fernandina contra Castela.

Doc. 1 Cronologia

1.1. Na tabela que se segue, distribui os acontecimentos que constam da cronologia segundo a sua natureza.

Económicos	Políticos	Sociais

1.2. Copia da cronologia um acontecimento que explique a crise económica do século XIV.

2. Associa os elementos da coluna da esquerda com os da direita.

A Peste Negra

B Lei das Sesmarias

C Causas da crise económica

D Consequências da crise económica

Maus anos agrícolas

Aumento do preço dos produtos, fomes e doenças

Epidemia ocorrida no século XIV

Tentativa de resolução da crise através do desenvolvimento da agricultura



3. Lê o documento 2.

3.1. Qual o monarca português que celebrou o Tratado de Salvaterra de Magos?

3.2. Por que razão esse tratado foi celebrado?

Porque a vontade d' El Rei D. Fernando era que os Reinos de Portugal nunca fossem juntos aos reinos de Castela, foi outorgado que, até que a infanta D. Beatriz tivesse filho e fosse de idade de catorze anos, a regência do reino fosse feita pela rainha D. Leonor e por aqueles que ela ordenasse para seu conselho.

Fernão Lopes, *Crónica de D. Fernando* (século XV)

Doc. 2 Tratado de Salvaterra de Magos

3.3. Caso D. Fernando morresse, segundo o tratado, quem seria o seu herdeiro?

4. Explica por que razão a morte de D. Fernando provocou uma crise de sucessão em Portugal.

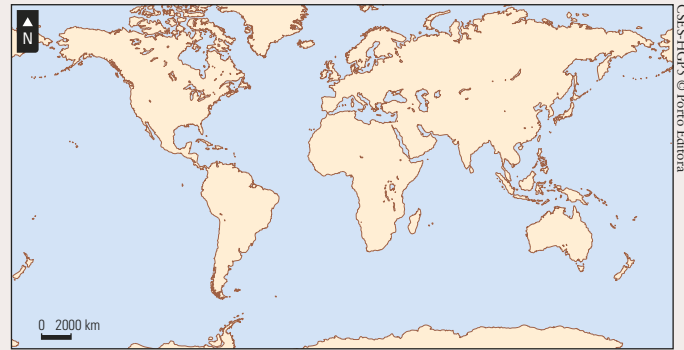
TESTE DE AVALIAÇÃO 1

1. Observa o documento 1.

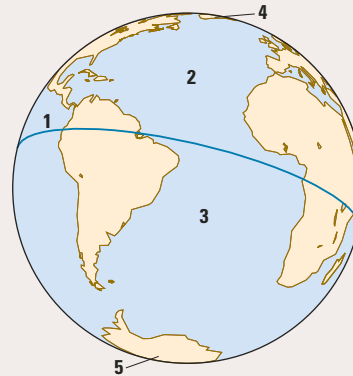
- 1.1. Completa o planisfério escrevendo o nome dos continentes e dos oceanos nos lugares correspondentes.
- 1.2. Pinta a Península Ibérica a vermelho.

2. Completa a legenda do globo, usando as seguintes expressões: hemisfério norte; hemisfério sul; polo norte; polo sul; e equador.

- 1 – _____
- 2 – _____
- 3 – _____
- 4 – _____
- 5 – _____



Doc. 1 Planisfério



3. Observa o documento 2.

- 3.1. Identifica as principais formas de relevo representadas no mapa.

- 3.2. Refere as áreas da Península Ibérica onde o relevo é mais montanhoso.



Doc. 2 O relevo da Península Ibérica

A alimentação do Homem do Paleolítico [...] era assegurada por uma economia de caça e recoleção. [...] Entre os vários animais caçados, destacam-se os herbívoros.

A. H. de Oliveira Marques, *Nova História de Portugal*, vol. I, Presença, 1990

Doc. 3

[Ao atual território português terão chegado populações] portadoras [...] de uma economia baseada [...] na agricultura e no pastoreio.


A. H. de Oliveira Marques, *Nova História de Portugal*, vol. I, Presença, 1990

Doc. 4

4. Qual dos dois documentos se refere às comunidades caçadoras-recoletoras? Justifica a tua resposta.

5. Refere duas razões que terão levado o Homem a fixar-se no mesmo local (sedentarização).

6. Associa as figuras A a D às comunidades caçadoras-recoletoras ou às agropastoris, escrevendo por baixo de cada uma a comunidade a que se refere.



A _____ B _____

7. Relaciona os elementos da coluna da esquerda com os da direita. Podes repetir as letras.

A Fenícios

B Gregos

C Cartagineses

- Tecidos e vidro
- Cerâmica
- Tecidos e armas
- Conservação dos alimentos pelo sal
- Alfabeto
- Uso da moeda



C _____ D _____

8. Distingue os documentos históricos escritos dos não escritos.

Os Romanos são bandidos que cobiçam o mundo inteiro. Depois de conquistarem as terras vão roubar os próprios mares. Desejosos de bens, se o inimigo é rico, e desejosos de poder, se ele é pobre. [...] Roubar, massacrar, eis o que os Romanos chamam, na sua falsa linguagem, civilizar.

Tácito, *Vida de Júlio Agrícola* (século I)



Doc. 5 A expansão romana

Doc. 6 Pinturas rupestres

O documento 5 representa um documento histórico _____.

O documento 6 representa um documento histórico _____.

9. Explica a importância dos documentos históricos para o Homem de hoje.
